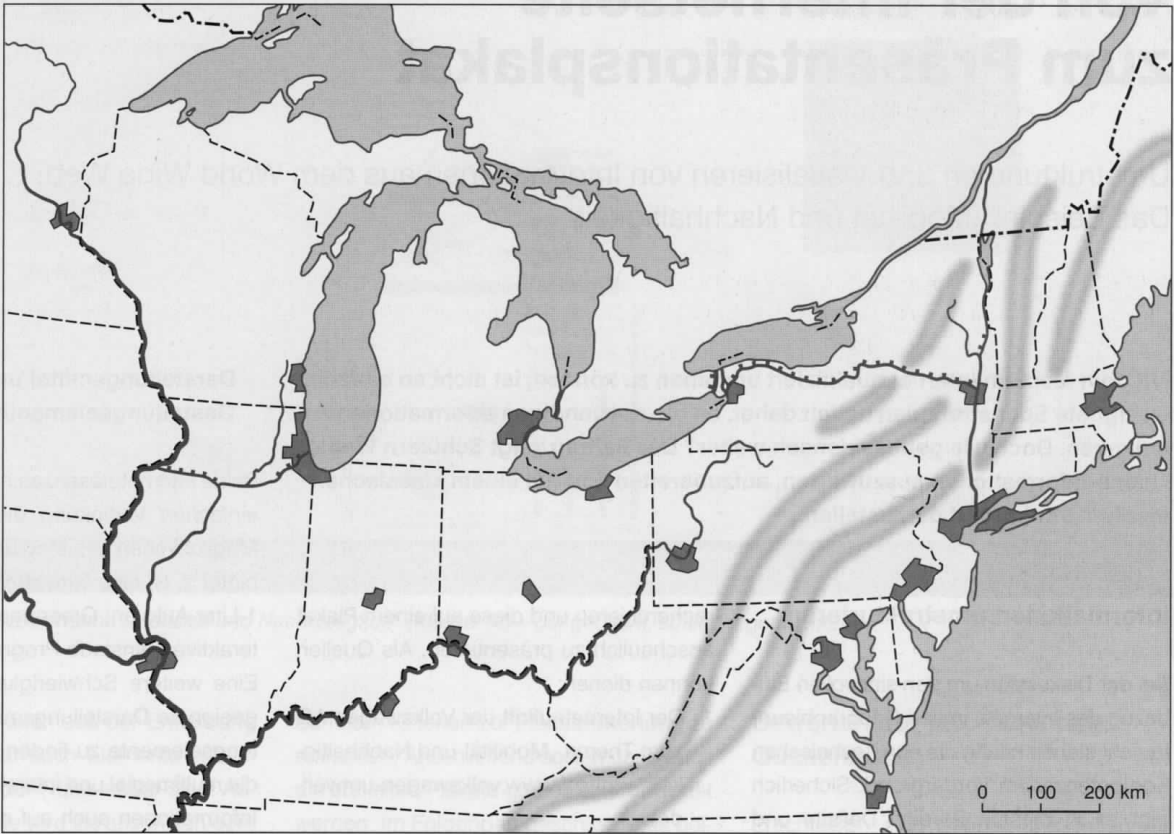




Der Manufacturing Belt

Verwende eine thematische Karte im Atlas. Löse die folgenden Aufgaben und erstelle deine eigene thematische Karte.





1. Finde im Atlas große Städte mit Kraftfahrzeugindustrie. Markiere diese in der Karte mit einem geeigneten Symbol (z. B. ) und trage die Städtenamen ein.

2. Wähle nun ein geeignetes Symbol (z. B. ) , um Städte mit Eisen- und Stahlerzeugung zu markieren.



3. Vergleiche die Lage der Kraftfahrzeugindustrie und der Stahl erzeugenden Industrie. Beschreibe, was dir auffällt.

4. Um Stahl zu produzieren braucht man zwei wichtige Rohstoffe:

 _____ und  _____

Markiere die Gegenden, in denen diese Rohstoffe vorkommen, mit den entsprechenden Symbolen.

5. Überlege, wie diese Rohstoffe zu den Städten mit Stahl erzeugender Industrie transportiert werden. Verwende geeignete Symbole für die zwei Transportmittel und trage sie in die Karte ein.

 _____  _____

6. Zeichne nun mit Pfeilen und mit Hilfe deiner Symbole die Rohstoff-Transportwege zu den Städten Detroit und Philadelphia in die Karte ein. Welche Besonderheit fällt dir bei Philadelphia bezüglich des Rohstoffs Eisenerz auf?

7. Erkläre, warum sich die Stahl erzeugende Industrie und die Kraftfahrzeugindustrie nicht in der Nähe der Kohle- und/oder Eisenerzlagerstätten befinden (Ausnahme: Pittsburgh)?